

Bruderschaft: _____

Mannschaft: _____

Mannschaftsführer: _____




Name: _____ Name: _____

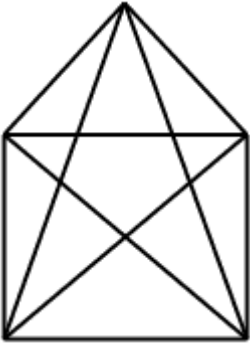
Name: _____ Name: _____



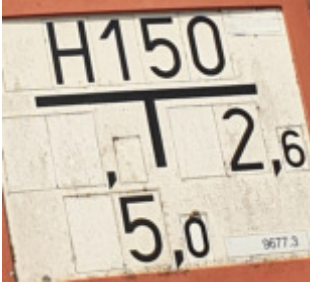
Name: _____ Name: _____


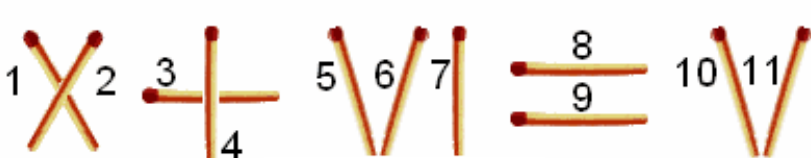
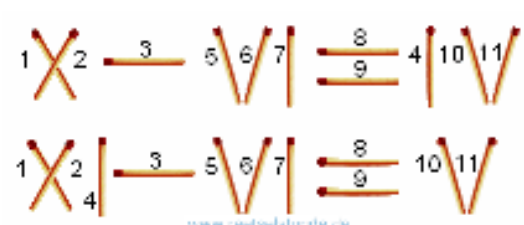
Name: _____ Name: _____

Die Aufgabebögen müssen direkt nach dem letzten Spiel am Sportplatz abgegeben werden!!!!

Nr.	Aufgabe:	Punkte:
1.	<p>Ergänze die Zahlen und Finde die Lösung</p> <p> ↓</p> <p></p> <p>$2 + 8 \times 2 = 18$</p> <p>$17 + 8 + 78 = 22$ $74 - 37 = 37$</p> <p>$9 + 80 : 40 = 2$ $6 = 30$</p> <p>$23 + 4 + 2 - 69 = 72$ $6 \times 4 =$</p> <p>$14 + 10 + 8 = 12 = 1 + 11$</p> <p>$18 = 12 + 12 + 12$</p> <p>$98 - 8 \times 2 = 82$ $2 + 2 = 90$</p> <p>$2 + 2 = 3 = 30$</p> <p>$84 = 9 + 14 + 19 + 18 + 21$ </p> <p>$19 - 16 = 19$ $2 + 23 = 99$</p> <p>$- 17 - 13$ $\times 2 \times$</p>	

2.	<p>Ein Mann blickt auf ein Bild an der Wand und gibt folgenden Kommentar ab: "Ich habe weder Brüder noch Schwestern, aber der Vater dieses Mannes ist der Sohn meines Vaters".</p> <p>Vor wessen Bild steht der Mann? Vor dem Bild seines Sohnes</p>	
3.	<p>Gruppenspiel 1</p>	
4.	<p>Es gingen zwei Väter und zwei Söhne übers Feld und fanden drei Äpfel und teilten sie so, dass jeder einen ganzen erhielt.</p> <p>Wie war das möglich?</p> <p>Großvater, Vater und Sohn, weil der eine Vater als Sohn des Großvaters zählt</p>	
5.	<div style="display: flex; align-items: center;"> <div style="flex: 1;">  </div> <div style="flex: 1; text-align: center;"> <p>Wie viele Dreiecke sind in dieser Figur?</p> <p> Tipp zeichne die Figur</p> <p style="font-size: 2em; color: red;">35</p> </div> </div>	
6.	<p>Schreib alle Bruderschaften auf die zum Bezirksverband Kevelaer gehören</p> <ol style="list-style-type: none"> 1. St. Antonius Twisteden 2. St. Antonius Kevelaer 3. St. Antonius Hamb 4. St. Maria Achterhoek 5. St. Sebastianus Hees-Baal 6. St. Sebastianus Kervenheim 7. St. Sebastianus Kevelaer 8. St. Sebastianus Winnekendonk 9. St. Rochus Lüllingen 10. St. Johannes Weeze 11. St. Johannes Kevelaer 12. St. Franziskus Berendonk 13. St. Petrus Wetten 14. St. Petrus Kevelaer 15. St. Aloysius Walbeck 16. St. Hubertus Keylaer 17. St. Quirinus Schraeveln 18. St. Antonius & St. Sebastianus Walbeck 19. St. Sebastianus Wemb 20. St. Sebastianus Wetten 	

7.	<p>Ergänze die Zahlen und Buchstaben auf dem Schild</p>  <p>Oben: 9770.49</p>  <p>Unten: 9677.3</p> 	
8.	Gruppenspiel 2	
9.	<p>Suche unterwegs nach Buchstaben entlang des Nierswanderwegs und finde die Lösung heraus</p> <p>Gruppendynamik</p>	
10.	<p>Doppelt soviel + die Hälfte + ein Viertel + 1 = 100 Welche Zahl suchen wir? 36 72+18+9+1</p>	
11.	<p>Ein Vater ist so alt, wie seine drei Söhne zusammen. Vor zehn Jahren war er dreimal so alt wie sein ältester und fünfmal so alt wie sein zweiter Sohn. Der jüngste Sohn ist 14 Jahre jünger als sein ältester Bruder. Wie alt ist jeder der drei Söhne?</p> <p>25 Jahre 19 Jahre und 11 Jahre (der Vater ist 55 Jahre)</p>	
12.	Gruppenspiel 3	
13.	<p>Zähle die Pfosten bei Anna an denen der Elektrozaun hängt 82</p>	

14.	<p>Was soll das Fahnen schwenken darstellen?</p> <p>Fesselung und Entfesselung des heiligen Sebastianus</p>	
15.	<p>Bilde die Wörter</p> <p>Beispiel: Kraftfahrzeug + Gewicht = Unterschrift</p> <p>1.) Getrocknetes Gras + Entsetzen = Insekten</p> <p>2.) Kleinste Zahl -s + Sturz = Idee</p>	<p>Autogramm</p> <p>Heuschrecken</p> <p>Einfall</p>
16.	<p>Was gehört dir allein, wird jedoch meist von anderen Leuten benutzt?</p> <p>Name</p>	
17.	<p>Gruppenspiel 4</p>	
18.	<p>Welches Wort wird gesucht</p>  <p>I = O P = N L = N A Ä = E O = A</p> <p>Sonnenuntergang</p>	
19.	<p>Lege ein Sreichholz um damit die Gleichung aufgeht</p>  <p>Lösung:</p>  <p>www.netzwerk-studien.de</p>	
20.	<p>Gruppenspiel 5</p>	

Bruderschaft: _____

Mannschaft: _____

Mannschaftsführer: _____

Name: _____ Name: _____

Name: _____ Name: _____

Name: _____ Name: _____

Name: _____ Name: _____

Die Aufgabebögen müssen direkt nach dem letzten Spiel am Sportplatz abgegeben werden!!!!



Straße: **Michelsweg**
Hausnummer: **34**

Straße: **Karl-Arnold-Str.**
Hausnummer: **28**



Ergänze die fehlenden Angaben
Hermann Schopmans
Telefon 02832-899536

Straße: **Grootestr.**
Hausnummer: **7**

Wem gehört diese Kapelle?
St. Johannes-Bruderschaft Weeze